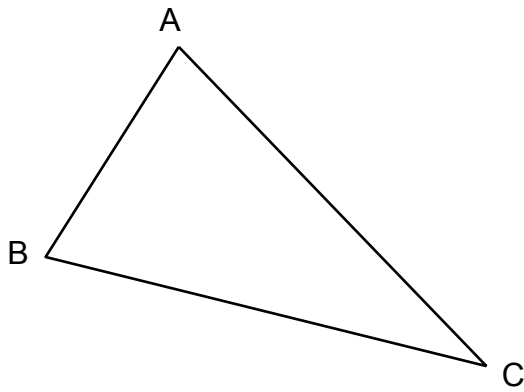


SOY ISIM : ISIM :

1 BC tarafının uzunluğunu ölç.



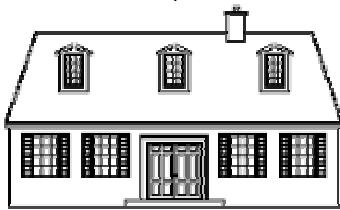
Cevap :

A CA+ CA- NA R

2 Dogru cevabı işaretle .

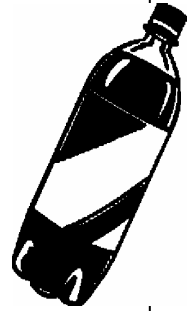
Evin uzunluğu :

- ▶ 15 kilo gram
- ▶ 15 metre
- ▶ 15 litre



Şişe ne içerir :

- ▶ 1 kilometre
- ▶ 1 litre
- ▶ 1 saat




İneğin ağırlığı :

- ▶ 800 metre
- ▶ 800 saat
- ▶ 800 kilo



Saat neyi gösteriyor

- ▶ 10 litre
- ▶ 10 euro
- ▶ saat 10




A CA+ CA- NA R

3 Nokta işaretinden yola çıkarak, 7 santi metre uzunluğunda çizgi yap.



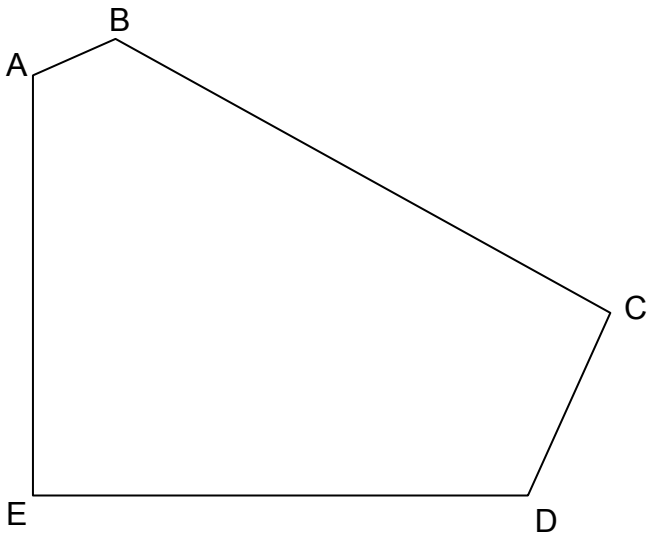
A	CA+	CA-	NA	R
---	-----	-----	----	---

4 Kara çizgili olan yerden yola çıkarak, bir kare oluştur.



A	CA+	CA-	NA	R
---	-----	-----	----	---

5 Aşağıdaki Şekile bakarak soruları yanıtla.



Bu şeklin kaç köşesi var ?

Cevap :

Bu şeklin kaç tane tepesi var ?

Cevap :

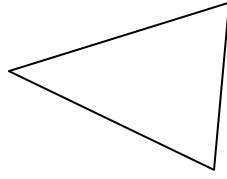
Bu şeklin kaç tane dik açısı var ?

Cevap :

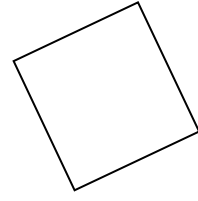
A	CA+	CA-	NA	R
---	-----	-----	----	---

6 Her şeklin ismini işaretle.


- ▶ *daire*
- ▶ *kare*
- ▶ *dikdörtgen*
- ▶ *üçgen*



- ▶ *küp*
- ▶ *üçgen*
- ▶ *dikdörtgen*
- ▶ *daire*



- ▶ *dikdörtgen*
- ▶ *daire*
- ▶ *kare*
- ▶ *üçgen*

A	CA+	CA-	NA	R
---	-----	-----	----	---

7 Daha küçükten daha büyüğe doğru sıraya koy sayıları :

152	2	14	7	125	41	20
-----	---	----	---	-----	----	----

--	--	--	--	--	--	--

A	CA+	CA-	NA	R
---	-----	-----	----	---

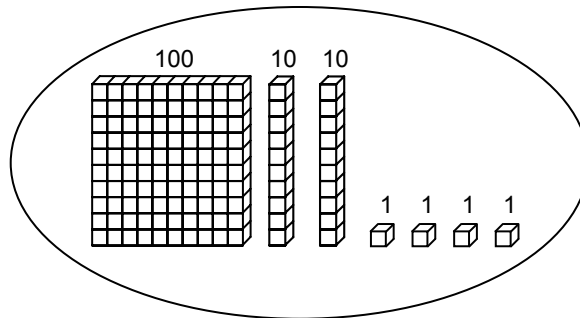
8 Sayıların devamını tamamla :

150	140	130	50
-----	-----	-----	-------	-------	-------	-------	-------	-------	-------	----

A	CA+	CA-	NA	R
---	-----	-----	----	---

9 Örnekte gösterildiği gibi, uygun düşen sayıyı işaretle.

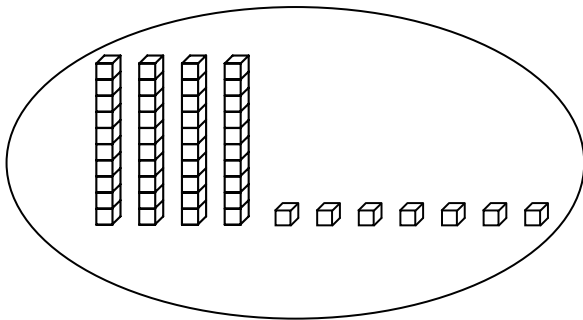
örnek :



421

124

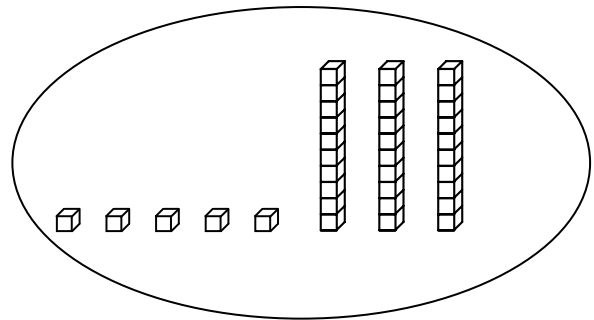
241



84

74

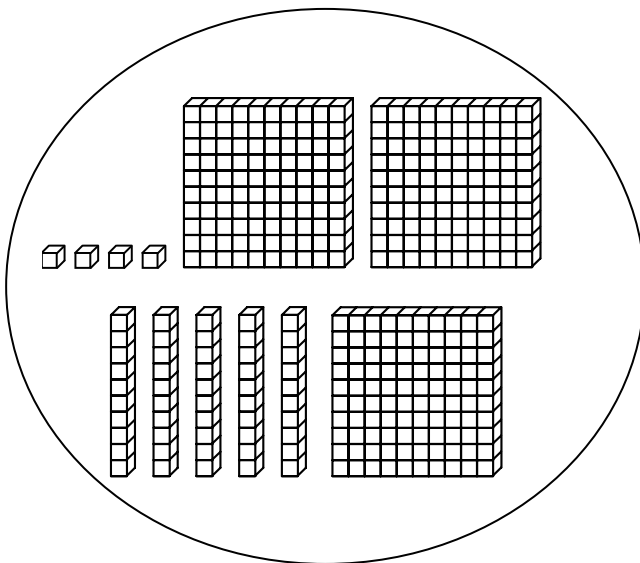
47



35

53

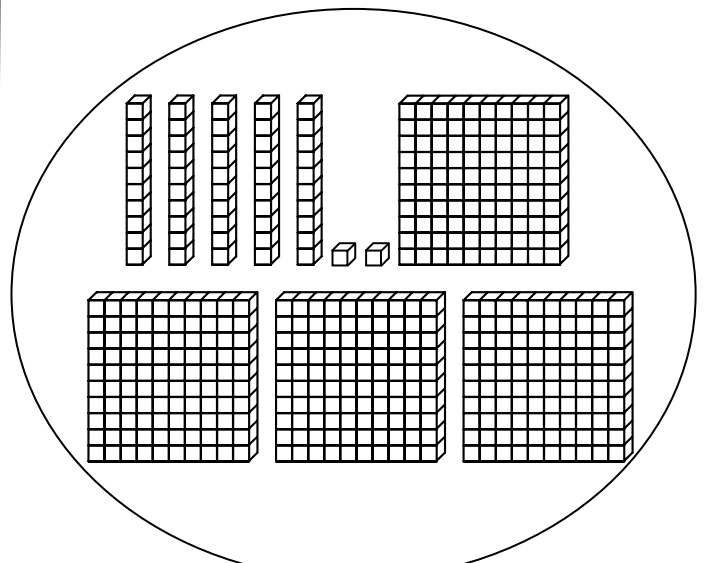
23



354

345

454



542

452

245

A CA+ CA- NA R

10 Hesapla.

$$\begin{array}{r} 48 \\ + 31 \\ \hline \end{array}$$

$$\begin{array}{r} 166 \\ + 254 \\ \hline \end{array}$$

A CA+ CA- NA R

11 Hesapla.

$$\begin{array}{r} 87 \\ - 52 \\ \hline \end{array}$$

$$\begin{array}{r} 512 \\ - 139 \\ \hline \end{array}$$

A CA+ CA- NA R

12 Hesapla.

$$\begin{array}{r} 32 \\ \times 4 \\ \hline \end{array}$$

$$\begin{array}{r} 75 \\ \times 3 \\ \hline \end{array}$$

A CA+ CA- NA R

13 Soruyu oku ve cevabı bul :

a) Sınıfta 26 öğrenci var. öğretmen her öğrenciye 4 kitap dağıtıyor.

Toplam olarak kaç kitap dağıtmış olur öğretmen ?

↳ Cevap :

b) 4 oyuncuya toplam 32 kart bölüştürülüyor. Bunun sonucunda her oyuncunun kaç kartı olur elinde ?

↳ Cevap :

A	CA+	CA-	NA	R
---	-----	-----	----	---

14 Soruyu oku ve doğru cevabı işaretle :

a) Tom'un 14 tane kırmızı ve 16 tane mavi balonu var.

Toplam kaç tane balonu var Tom'un ?

▶ $16 - 14$

▶ $14 + 14$

▶ $16 + 14$

▶ $16 + 16$

b) Sınıfta 29 öğrenci var, bunun 15 tanesi erkek.

Bu durumda kaç tane kız vardır ?

▶ $29 + 15$

▶ $15 + 29$

▶ $29 - 15$

▶ 29×15

A	CA+	CA-	NA	R
---	-----	-----	----	---