

1 - อ่านนิทานเรื่องนี้


ดวงจันทร์ที่ชอบชุกชน

ตรงหน้าบ้านพวกเขา เด็กผู้ชายกับเด็กผู้หญิงกำลังเล่นลูกบอลกันอยู่
 ที่นี้ตาใคร โยนบอล
 “ตาฉัน!”
 “ไม่ใช่ตาเธอ ตาฉัน!”
 พวกเขาเริ่มทะเลาะกัน ลูกบอลสีแดงกับสีฟ้าลอยขึ้นไป...
 ลอยขึ้นไป เลขคั่น ไม้จนถึงท้องฟ้า ได้ไปชนดวงจันทร์จนตกลงมา!
 ดวงจันทร์ตกลงมาบนพื้นดินและได้กระเด็นมาพร้อมกับลูกบอล!
 ช่างสนุกสนานเหลือเกิน! ที่นี่จะได้มีลูกบอลสองลูก
 ลูกหนึ่งสำหรับเด็กผู้ชายและอีกลูกหนึ่งสำหรับเด็กผู้หญิง



Procédure =




2 - จิตเส้นคำที่ถูกต้องกับภาพ



บ้าน	ลูกบอล	เด็กผู้ชาย
ต้นไม้	เด็กผู้หญิง	ดวงจันทร์





3 - ให้ตอบคำถามเหล่านี้โดยวงกลมคำตอบที่ถูกต้อง

① พวกเขาทำสิ่งทำอะไรอยู่

พวกเขาร้องเพลง

พวกเขาพากันเล่น

พวกเขาทำงาน



② พวกเขาพากันเล่นที่ไหน

ในบ้านของพวกเขา

ที่สนามเด็กเล่นในโรงเรียน

ตรงหน้าบ้านพวกเขา

③ ลูกบอลสีอะไร

สีแดง

สีแดงกับสีฟ้า

สีแดงกับสีขาว

$$\dots/3 + \dots/3 = \dots/6$$

④ ทำไมถึงได้มีลูกบอลสองลูกตอนนิทานจบ

เพราะว่าพวกเขาได้เจอลูกบอลอีกลูกหนึ่งที่บ้านพวกเขา

เพราะว่าดวงอาทิตย์ได้ตกลงมาจากท้องฟ้า

เพราะว่าดวงจันทร์ได้ตกลงมาจากท้องฟ้า

⑤ นิทานจบแบบไหน

พวกเขาคืนดีกัน

พวกเขายังทะเลาะกันอยู่

พวกเขาหยุดเล่นลูกบอล

⑥ ตามความคิดเห็นของตนเองนิทานเรื่องนี้จะเกิดขึ้นได้หรือเปล่า

ได้

ไม่ได้

ไม่ทราบ

$$\dots/3 + \dots/3 + \dots/3 = \dots/9$$