

PREZIME : .....

IME : .....

**1** Izmijeri dužinu stranice BC.

Odgovor : .....

A CA+ CA- NA R

**2** Zaokruži tačan odgovor.

Dužina kuće je :

- ▶ 15 kilograma
- ▶ 15 metara
- ▶ 15 litara

Boca sadrži :

- ▶ 1 kilometar
- ▶ 1 litar
- ▶ 1 sat

Krava je teška :


- ▶ 800 metara
- ▶ 800 sati
- ▶ 800 kila

Sat pokazuje :

- ▶ 10 litara
- ▶ 10 eura
- ▶ 10 sati

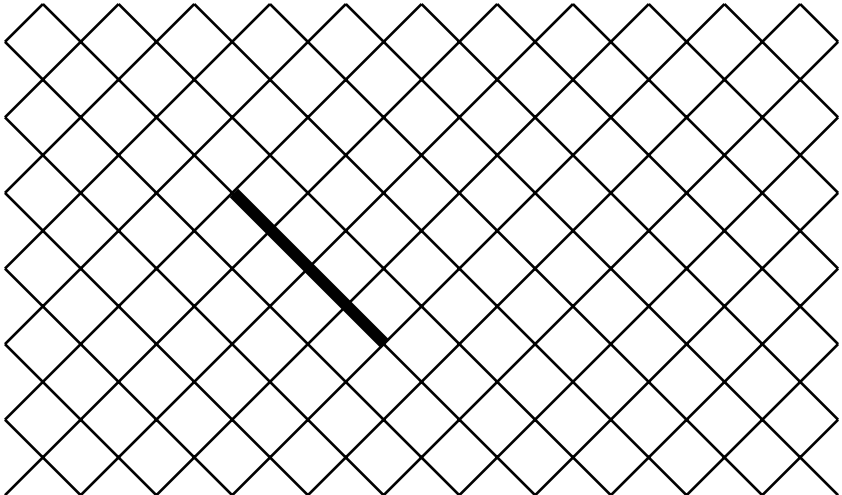
A CA+ CA- NA R

**3 Polazeći od zadate tačke, nacrtaj liniju dugu 7 cm.**



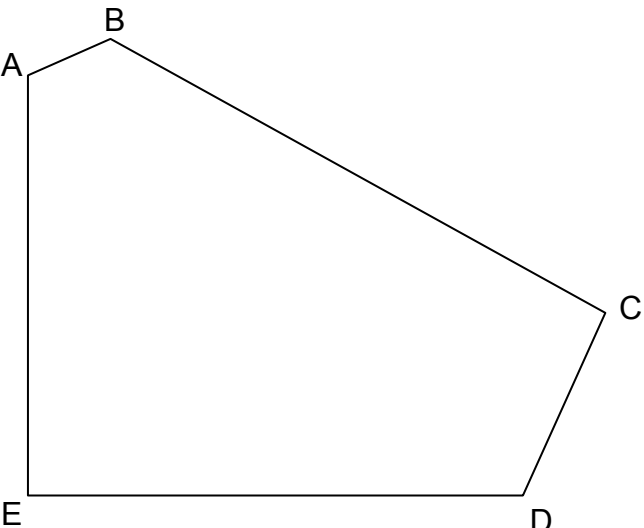
A CA+ CA- NA R

**4 Polazeći od već nacrtane stranice, nacrtaj kvadrat.**



A CA+ CA- NA R

**5 Posmatraj ovu figuru i dopuni.**



Koliko stranica ima ova figura ?  
 Odgovor : .....

Koliko vrhova ima ova figura ?  
 Odgovor : .....

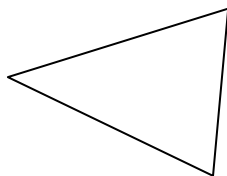
Koliko pravih uglova ima ova figura ?  
 Odgovor : .....

A CA+ CA- NA R

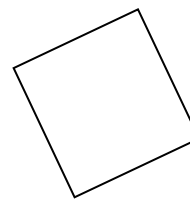
**6** Zaokruži ime svake figura.



- ▶ *krug*
- ▶ *Kvadrat*
- ▶ *Pravougaonik*
- ▶ *Trougao*



- ▶ *Kocka*
- ▶ *Trougao*
- ▶ *Pravougaonik*
- ▶ *krug*



- ▶ *Pravougaonik*
- ▶ *krug*
- ▶ *Kvadrat*
- ▶ *Trougao*

A CA+ CA- NA R

**7** Poredaj od najmanjeg do najvećeg :

152 2 14 7 125 41 20

--	--	--	--	--	--	--

A CA+ CA- NA R

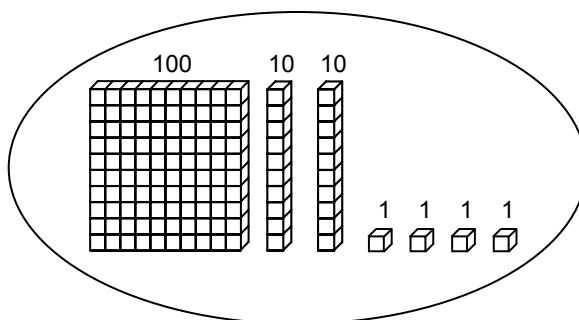
**8** Dopuni seriju brojeva :

150	140	130	.....	.....	.....	.....	.....	.....	.....	50
-----	-----	-----	-------	-------	-------	-------	-------	-------	-------	----

A CA+ CA- NA R

**9** Zaokruži broj koji treba, kao u primjeru.

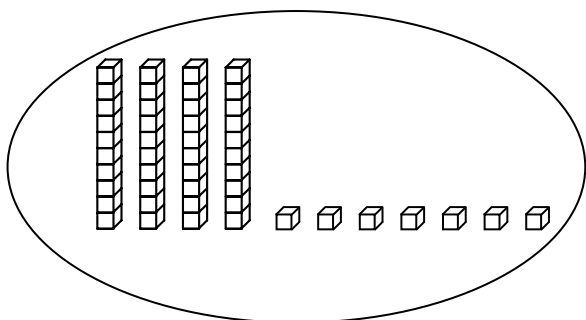
primjer :



421

124

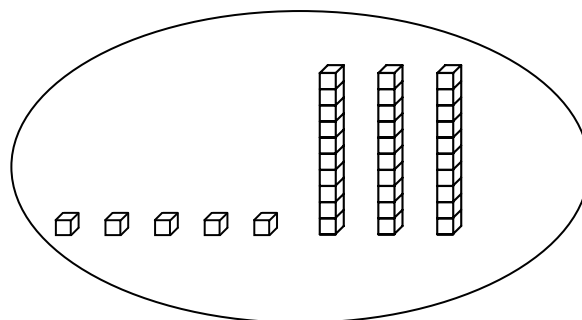
241



84

74

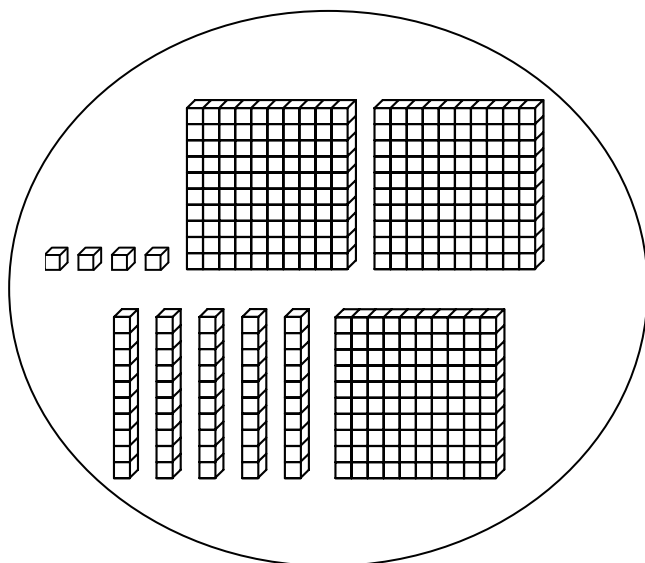
47



35

53

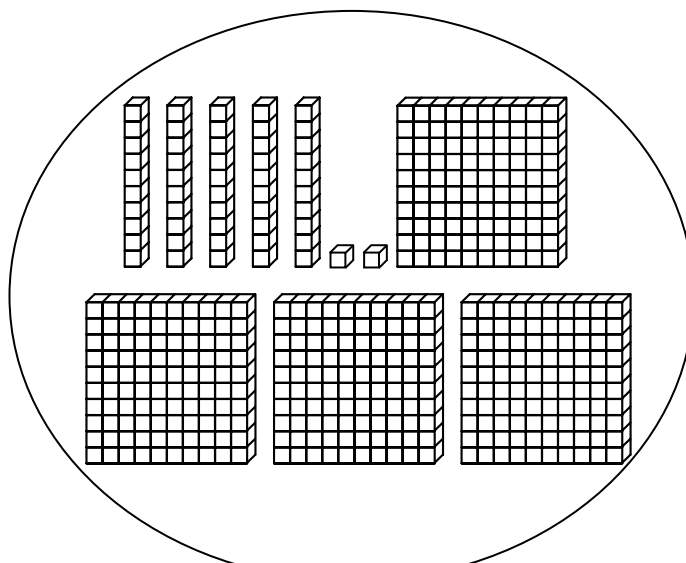
23



354

345

454



542

452

245

10 Izračunaj.

$$\begin{array}{r} 48 \\ + 31 \\ \hline \end{array}$$

$$\begin{array}{r} 166 \\ + 254 \\ \hline \end{array}$$

A CA+ CA- NA R

11 Izračunaj.

$$\begin{array}{r} 87 \\ - 52 \\ \hline \end{array}$$

$$\begin{array}{r} 512 \\ - 139 \\ \hline \end{array}$$

A CA+ CA- NA R

12 Izračunaj.

$$\begin{array}{r} 32 \\ \times 4 \\ \hline \end{array}$$

$$\begin{array}{r} 75 \\ \times 3 \\ \hline \end{array}$$

A CA+ CA- NA R

**13** Pročitaj pitanje i nađi odgovor :

a ) U razredu su 26 učenika. Učiteljica je dala 4 knjige svakom učeniku.

Koliko je učiteljica ukupno dala knjiga ?

↳ Odgovor : .....

b ) 4 igrača su dobila 32 karte. Koliko je svaki igrač dobio karata ?

↳ Odgovor : .....

A CA+ CA- NA R

**14** Pročitaj zadatak i zaokruži tačan odgovor :

a ) Tom ima 14 crvenih lopti i 16 plavih lopti.

Koliko Tom ima ukupno lopti ?

▶  $16 - 14$

▶  $14 + 14$

▶  $16 + 14$

▶  $16 + 16$

b ) U razredu ima 29 učenika. 15 učenika su dečaci.

Koliko ima devojčica ?

▶  $29 + 15$

▶  $15 + 29$

▶  $29 - 15$

▶  $29 \times 15$

A CA+ CA- NA R