

Ім'я : Прізвище :

1 Виміри довжину біку ВС.

Відповідь :

A CA+ CA- NA R

2 Обведи правильну відповідь.

Довжина будинку дорівнює :

- ▶ 15 кілограм
- ▶ 15 метрів
- ▶ 15 літрів

Пляшка містить :

- ▶ 1 кілометр
- ▶ 1 літр
- ▶ 1 година

Корова важить :

- ▶ 800 метрів
- ▶ 800 годин
- ▶ 800 кілограм

Годинник показує :

- ▶ 10 літрів
- ▶ 10 євро
- ▶ 10 годин


A CA+ CA- NA R

3 Накресли відрізок довжиною 7 см починаючи від крапки.



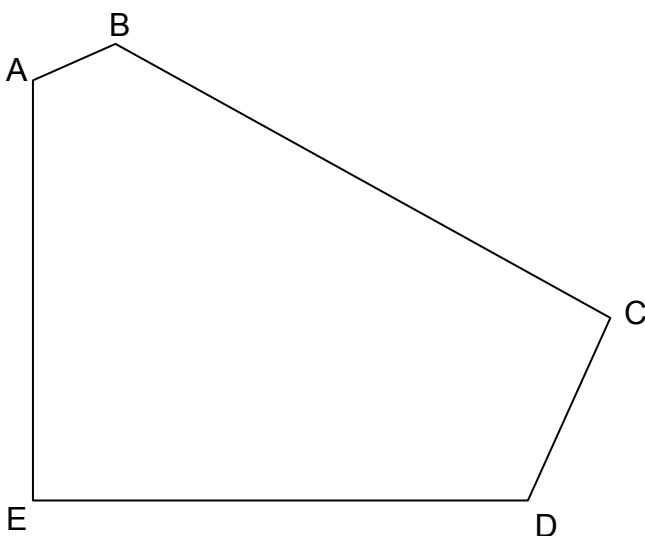
A CA+ CA- NA R

4 Накресли квадрат починаючи від намальованого біку.



A CA+ CA- NA R

5 Подивись на малюнок та доповнюй.



Скільки боків має ця фігура?

Відповідь :

Скільки вершин має ця фігура?

Відповідь :

Скільки прямих кутів має ця фігура?

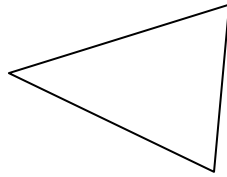
Відповідь :

A CA+ CA- NA R

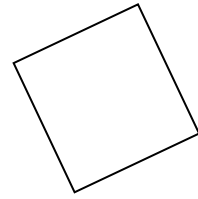
6 Обведи назву кожної фігури.



- ▶ Коло
- ▶ Квадрат
- ▶ Прямокутник
- ▶ Трикутник



- ▶ Куб
- ▶ Трикутник
- ▶ Прямокутник
- ▶ Коло



- ▶ Прямокутник
- ▶ Коло
- ▶ Квадрат
- ▶ Трикутник

A CA+ CA- NA R

7 Розмісти від самого малого до самого великого :

152 2 14 7 125 41 20

--	--	--	--	--	--	--	--

A CA+ CA- NA R

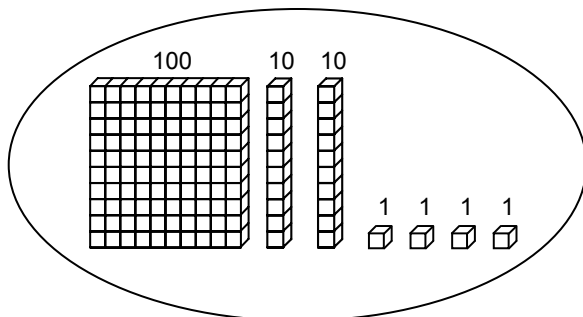
8 Доповни послідовність чисел :

150	140	130	50
-----	-----	-----	-------	-------	-------	-------	-------	-------	-------	----

A CA+ CA- NA R

9 Обведи відповідне число, як у зразку.

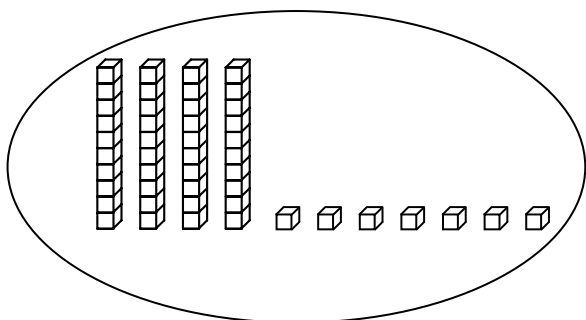
Зразок :



421

124

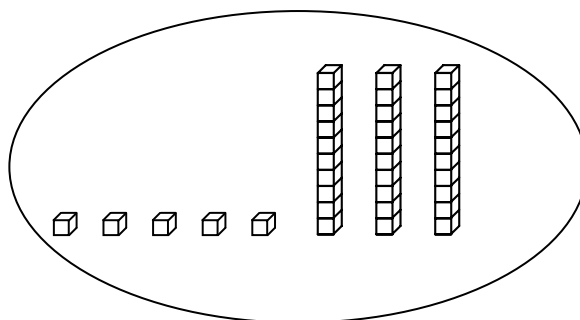
241



84

74

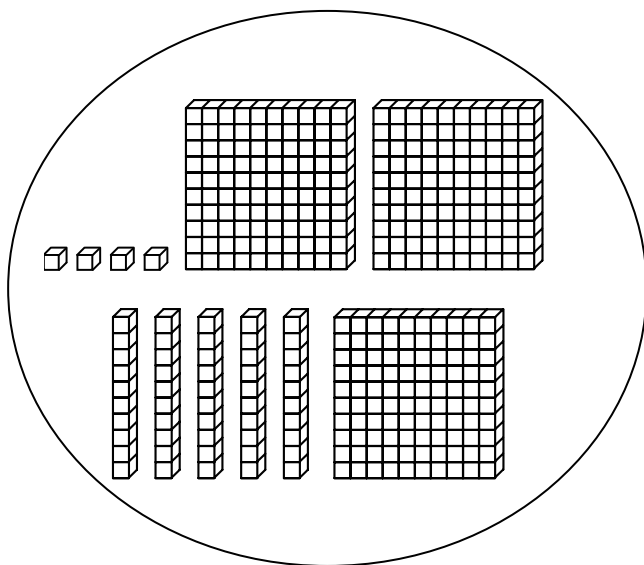
47



35

53

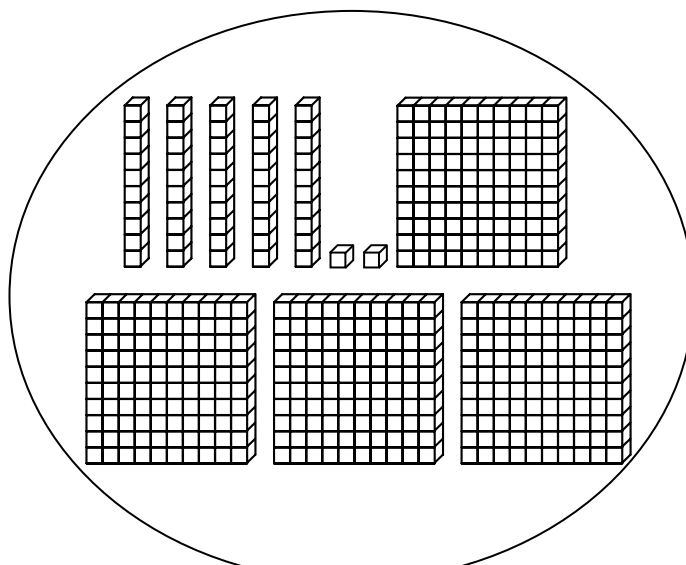
23



354

345

454



542

452

245

A CA+ CA- NA R

10 Вичисли.

$$\begin{array}{r} 48 \\ + 31 \\ \hline \end{array}$$

$$\begin{array}{r} 166 \\ + 254 \\ \hline \end{array}$$

A CA+ CA- NA R

11 Вичисли.

$$\begin{array}{r} 87 \\ - 52 \\ \hline \end{array}$$

$$\begin{array}{r} 512 \\ - 139 \\ \hline \end{array}$$

A CA+ CA- NA R

12 Вичисли.

$$\begin{array}{r} 32 \\ \times 4 \\ \hline \end{array}$$

$$\begin{array}{r} 75 \\ \times 3 \\ \hline \end{array}$$

A CA+ CA- NA R

13 Прочитай задачу та обведи правильну відповідь :

a) В класі 26 учнів. Вчителька роздає по 4 книги кожному учню.

Скільки всього книг вона роздала?

↳ Відповідь :

b) 32 карти роздають 4 гравцям. Скільки карт отримує кожний гравець?

↳ Відповідь :

A CA+ CA- NA R

14 Прочитай задачу та обведи правильну відповідь :

a) У Тома є 14 червоних та 16 синіх куль.

Скільки всього куль він має?

▶ $16 - 14$

▶ $14 + 14$

▶ $16 + 14$

▶ $16 + 16$

b) В класі 29 учнів. 15 учнів хлопці.

Скільки дівчинок у класі?

▶ $29 + 15$

▶ $15 + 29$

▶ $29 - 15$

▶ 29×15

A CA+ CA- NA R